

BULLETIN-RÉPONSE

N° d'inscription :

Catégorie : Mixte Cycle 3 6^{ème}

Établissement(s) :

Ville(s) :

Classe ou groupe :

Enseignant(s) :

1ère correction	
Nombre de problèmes entièrement réussis	Nombre de points

2ème correction	
Nombre de problèmes entièrement réussis	Nombre de points

N'oubliez pas de cocher les 6 problèmes que vous choisissez !

Problème 1 12 points

L'aire du triangle noir est cm².

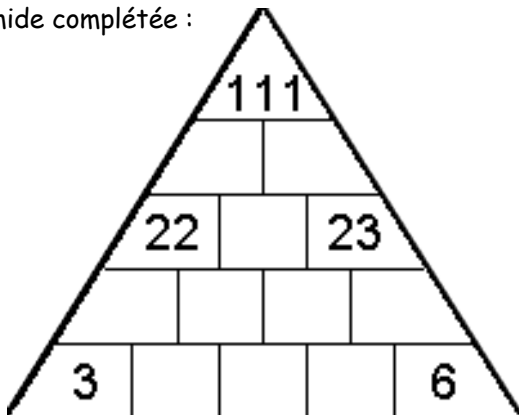
Problème 2 15 points

Thomas Pesquet serait reparti de la station à l'âge de

ans.

Problème 3 12 points

Voici la pyramide complétée :

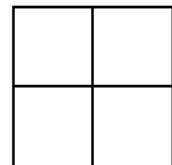


Problème 4 12 points

À l'étape 8, pions seront utilisés.


Problème 5 20 points

Voici la grille complétée :



Problème 6 20 points

Voici la grille après 10 mouvements de la fourmi :



Noircissez les bonnes cases et ne dessinez pas la fourmi.

Problème 7 **20 points**

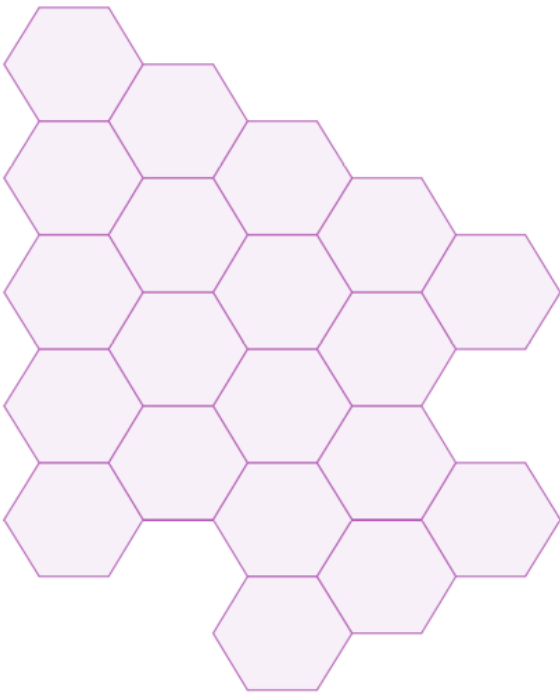
Alan a épousé .

Problème 8 **8 points**

Nous avons retiré cubes.

Problème 10 **8 points**

Voici la surface recouverte :



Problème 9 **20 points**

Voici la grille complétée :

$+ 2 =$	$\times 3 =$	$+ 4 =$	\times
$+ \quad =$	$\times \quad =$	$\times \quad =$	$\times \quad =$
$= \quad =$	$\underline{1}$	$\underline{3}$	$\underline{1}$
$4 - \quad =$		$+ \quad =$	
	\times		$\underline{3}$
	$\underline{3}$		
\times	$+ \quad =$	$+ \quad =$	$+ \quad =$
$\underline{4}$	$\quad =$	$+ 3 =$	$\quad =$
$\underline{3}$		$= \quad =$	$= \quad =$
$\times \quad = 4$		$5 - \quad =$	

Problème 11 **15 points**

Voici le message décodé qu'Armelle a envoyé à Franck :

Problème 12 **12 points**

Voici notre figure :